

Sr. No. **10008**

Total No. of Printed pages : 31

(DO NOT OPEN THIS QUESTION BOOKLET BEFORE TIME OR UNTIL YOU ARE ASKED TO DO SO)

**PG-EE-2013
EDUCATION**

Code



Time : 1¼ hours

Max. Marks : 100

Total Questions : 100

Roll No. _____ (in figure) _____ (in words)

Name _____ Father's Name _____

Mother's Name _____ Date of Examination : _____

(Signature of the candidate)

(Signature of the Invigilator)

**CANDIDATES MUST READ THE FOLLOWING INFORMATION / INSTRUCTIONS
BEFORE STARTING THE QUESTION PAPER.**

1. All questions are compulsory and carry equal marks.
2. The candidate must return the Question book-let as well as OMR answer-sheet to the Invigilator concerned before leaving the Examination Hall, failing which a case of use of unfair-means / misbehaviour will be registered against him / her, in addition to lodging of an FIR with the police. Further the answer-sheet of such a candidate will not be evaluated.
3. In case there is any discrepancy in any question(s) in the Question Booklet, the same may be brought to the notice of the Controller of Examinations in writing within two hours after the test is over. No such complaint(s) will be entertained thereafter.
4. The candidate **MUST NOT** do any rough work or writing in the OMR Answer-Sheet. Rough work, if any, may be done in the question book-let itself. Answers **MUST NOT** be ticked in the Question book-let.
5. Use only blue or black **BALL POINT PEN** of good quality in the OMR Answer-Sheet.
6. There will be no negative marking. Each correct answer will be awarded one full mark. Cutting, erasing, overwriting and more than one answer in OMR Answer-Sheet will be treated as incorrect answer.
7. **BEFORE ANSWERING THE QUESTIONS, THE CANDIDATES SHOULD ENSURE THAT THEY HAVE BEEN SUPPLIED CORRECT AND COMPLETE BOOK-LET. COMPLAINTS, IF ANY, REGARDING MISPRINTING ETC. WILL NOT BE ENTERTAINED 30 MINUTES AFTER STARTING OF THE EXAMINATION.**

Question No.	Questions
1.	<p>Who expressed the following opinion ? Next to nature the child should be brought into touch with the stream of social behaviour.</p> <p>(1) Dr. Zakir Hussian (2) Dr. Radha Krishnan (3) Rabindranath Tagore (4) Mahatma Gandhi</p> <p>निम्न विचार किसने व्यक्त किये ? "प्रकृति के पश्चात बालक को सामाजिक व्यवहार की धारा के सम्पर्क में लाना चाहिए।"</p> <p>(1) डॉ. जाकिर हुसैन (2) डॉ. राधा कृष्णन (3) रवीन्द्रनाथ टैगोर (4) महात्मा गांधी</p>
2.	<p>Who expressed the following views – 'Teacher is a Philosopher, friend and guide, helping the educant to forward in his own way' ?</p> <p>(1) Swami Dayanand (2) Swami Vivekanand (3) Jawahar Lal Nehru (4) None of the above</p> <p>ये विचार किसने दिये ? 'शिक्षक एक दार्शनिक, मित्र तथा पथ प्रदर्शक है जो बालक को अपने ढंग से अग्रसर होने के लिये सहायता प्रदान करता है ?</p> <p>(1) स्वामी दयानन्द (2) स्वामी विवेकानन्द (3) जवाहर लाल नेहरू (4) इनमें से कोई नहीं</p>
3.	<p>'Shanti Niketan' principle of education of children is</p> <p>(1) Gurukul Education (2) Education in natural setting (3) Aashram Education (4) Normal School Education</p> <p>'शान्ति निकेतन' में बच्चों की शिक्षा का सिद्धान्त है :</p> <p>(1) गुरुकुल शिक्षा (2) प्रकृति की गोद में शिक्षा (3) आश्रम शिक्षा (4) सामान्य विद्यालय शिक्षा</p>

Question No.	Questions
4.	<p>Who expressed the following views ? "The idea of hammering the child in to shape desired by the parents or teacher is a barbarious and ignorant superstition."</p> <p>(1) Swami Vivekanand (2) Swami Dayanand (3) Shri Aurobindo Gosh (4) Rabindranath Tagore</p> <p>"बालक को माता-पिता अथवा शिक्षक की इच्छानुकूल ढालना अन्धविश्वास तथा जंगलीपन है।" ये विचार किसने व्यक्त किये ?</p> <p>(1) स्वामी विवेकानन्द (2) स्वामी दयानन्द (3) श्री अरबिन्दो घोष (4) रवीन्द्रनाथ टैगोर</p>
5.	<p>Which educationist has stressed natural freedom of child while learning?</p> <p>(1) Mahatma Gandhi (2) Rabindranath Tagore (3) Shri Aurobindo Gosh (4) Swami Vivekanand</p> <p>किस शिक्षा शास्त्री ने सीखने में बच्चों की प्राकृतिक स्वतंत्रता पर बल दिया है ?</p> <p>(1) महात्मा गांधी (2) रवीन्द्रनाथ टैगोर (3) श्री अरबिन्दो घोष (4) स्वामी विवेकानन्द</p>
6.	<p>Who expressed the following views ? "The teacher is not an instructor or task-master, he is helper and guide".</p> <p>(1) Swami Vivekanand (2) Shri Arvindo Gosh (3) Mahatma Gandhi (4) Swami Dayanand</p> <p>ये विचार किसने व्यक्त किये ? 'शिक्षक निर्देशक अथवा स्वामी नहीं है अपितु वह केवल सहायक तथा पथ-प्रदर्शक है।'</p> <p>(1) स्वामी विवेकानन्द (2) श्री अरबिन्दो घोष (3) महात्मा गांधी (4) स्वामी दयानन्द</p>

Question No.	Questions
7.	<p>Who expressed the following views ? 'Education is the manifestation of the perfection already reached in man'.</p> <p>(1) Shri Aurobindo Gosh (2) Swami Dayanand (3) Swami Vivekanand (4) Mahatma Gandhi</p> <p>ये विचार किसने व्यक्त किये ? "शिक्षा उस सन्निहित पूर्णता का प्रकाश है जो मानव में पहले से विद्यमान है।"</p> <p>(1) श्री अरबिन्दो घोष (2) स्वामी दयानन्द (3) स्वामी विवेकानन्द (4) महात्मा गांधी</p>
8.	<p>Who believed. 'The chief aim of education should be to help the growing soul to draw out that in itself which is best and make it perfect for a noble use' ?</p> <p>(1) Mahatma Gandhi (2) Vinoba Bhave (3) Shri Aurobindo Gosh (4) Prof. Yashpal</p> <p>यह किसकी मान्यता है - "शिक्षा का मुख्य उद्देश्य होना चाहिए कि विकसित होने वाली आत्मा का विकास करना जो उसमें सर्वोत्तम है उसे व्यक्त करना तथा उसे श्रेष्ठ कार्य के लिये पूर्ण बनाना"।</p> <p>(1) महात्मा गांधी (2) विनोबा भावे (3) श्री अरबिन्दो घोष (4) प्रोफेसर यशपाल</p>
9.	<p>Who expressed these views ? 'You will have to be practical in all spheres of work. The whole country has been ruined by mass theories'.</p> <p>(1) Swami Ram Tirth (2) Swami Dayanand (3) Baba Shahib Ambedkar (4) Swami Vivekanand</p> <p>ये विचार किसने व्यक्त किये ? 'तुमको कार्य के प्रत्येक क्षेत्र में व्यवहारिक बनना पड़ेगा। सम्पूर्ण देश का सिद्धान्तों के ढेरों ने विनाश किया है।'</p> <p>(1) स्वामी रामतीर्थ (2) स्वामी दयानन्द (3) बाबा साहिब अम्बेडकर (4) स्वामी विवेकानन्द</p>

Question No.	Questions
10.	<p>Who expressed these views ? 'I consider that the great national sin is the neglect of masses and that is one of the causes of our downfall.'</p> <p>(1) Swami Vivekanand (2) Swami Dayanand (3) Jawahar Lal Nehru (4) Sardar Patel</p> <p>ये विचार किसने व्यक्त किये ? "मैं जन साधारण की अवहेलना करना महान राष्ट्रीय पाप समझता हूँ और यह हमारे पतन का मुख्य कारण है।"</p> <p>(1) स्वामी विवेकानन्द (2) स्वामी दयानन्द (3) जवाहर लाल नेहरू (4) सरदार पटेल</p>
11.	<p>Who started 'Jawahar Rozgar Yojana' ?</p> <p>(1) Jawahar Lal Nehru (2) Rajiv Gandhi (3) Indira Gandhi (4) Dr. Manmohan Singh</p> <p>जवाहर रोजगार योजना किसने शुरू की ?</p> <p>(1) जवाहर लाल नेहरू (2) राजीव गांधी (3) इन्दिरा गांधी (4) डा. मनमोहन सिंह</p>
12.	<p>What is the currency of Bangladesh ?</p> <p>(1) Rupee (2) Taka (3) Dollar (4) Yen</p> <p>बंगलादेश की मुद्रा क्या है ?</p> <p>(1) रुपया (2) टाका (3) डॉलर (4) येन</p>
13.	<p>Who started the 'Twenty Point Programme' first ?</p> <p>(1) Rajiv Gandhi (2) Jawahar Lal Nehru (3) Indira Gandhi (4) Narsingha Rao</p> <p>'बीस सूत्री कार्यक्रम' पहले किसने शुरू किया ?</p> <p>(1) राजीव गांधी (2) जवाहर लाल नेहरू (3) इन्दिरा गांधी (4) नरसिंहा राव</p>

Question No.	Questions
14.	<p>Which of the following is called 'Red Planet' ?</p> <p>(1) Mars (2) Jupiter (3) Venus (4) Saturn</p> <p>निम्नलिखित में से किसको 'लाल ग्रह' कहा जाता है ?</p> <p>(1) मंगल (2) बृहस्पति (3) शुक्र (4) शनि</p>
15.	<p>Who is the first Indian to go in space ?</p> <p>(1) Rajesh Malhotra (2) Rakesh Sharma (3) C. V. Raman (4) Hargobind Khorana</p> <p>सबसे पहले अन्तरिक्ष में जाने वाला भारतीय कौन है ?</p> <p>(1) राजेश मल्होत्रा (2) राकेश शर्मा (3) सी.वी.रमन (4) हरगोबिन्द खुराना</p>
16.	<p>Which of the following countries is located near Atlantic Ocean ?</p> <p>(1) Russia (2) America (3) Australia (4) Indonesia</p> <p>निम्नलिखित में से कौन-सा देश अटलांटिक महासागर के निकट स्थित है ?</p> <p>(1) रूस (2) अमेरिका (3) आस्ट्रेलिया (4) इन्डोनेशिया</p>
17.	<p>Which is the only Hindu state in the world ?</p> <p>(1) Sri Lanka (2) Nepal (3) Bhutan (4) India</p> <p>दुनिया में कौन-सा देश हिन्दू राष्ट्र है ?</p> <p>(1) श्री लंका (2) नेपाल (3) भूटान (4) भारत</p>

Question No.	Questions
18.	<p>Which crop is most grown in the United States of America ?</p> <p>(1) Barley (2) Maize (3) Rice (4) Wheat</p> <p>संयुक्त राज्य अमेरिका में कौन-सी फसल सबसे अधिक उगाई जाती है ?</p> <p>(1) जौ (2) मकई (3) चावल (4) गेहूं</p>
19.	<p>Which of the following is a Kharif Crop ?</p> <p>(1) Wheat (2) Barley (3) Mustard (4) Jute</p> <p>निम्नलिखित में से कौन-सी खरीफ फसल है ?</p> <p>(1) गेहूं (2) जौ (3) सरसों (4) जूट</p>
20.	<p>Which game is connected with Wimbledon</p> <p>(1) Cricket (2) Table Tennis (3) Badminton (4) Lawn Tennis</p> <p>निम्नलिखित में से कौन-सी खरीफ फसल है .?</p> <p>(1) क्रिकेट (2) टेबल टेनिस (3) बैडमिन्टन (4) लॉन टेनिस</p>
21.	<p>Which country is not a member of the UN ?</p> <p>(1) Nepal (2) Iran (3) Switzerland (4) Denmark</p> <p>कौन सा देश संयुक्त राष्ट्र का सदस्य नहीं है ?</p> <p>(1) नेपाल (2) ईरान (3) स्विट्जरलैंड (4) डेनमार्क</p>
22.	<p>Which of the following is a natural fibre ?</p> <p>(1) Cotton (2) Rayon (3) Nylon (4) Terylene</p> <p>निम्नलिखित में कौन सा रेशा प्राकृतिक है ?</p> <p>(1) कपास (2) रेयॉन (3) नाइलॉन (4) टेरीलीन</p>

Question No.	Questions
23.	<p>Which of the following causes rusting of iron ?</p> <p>(1) Oxidation (2) Reduction (3) Evaporation (4) Combustion</p> <p>निम्नलिखित में से कौन सी क्रिया लोहे में जंग लगाती है ?</p> <p>(1) ऑक्सीकरण (2) विघटन (हास) (3) वाष्पीकरण (4) जलना</p>
24.	<p>Kilowatt is the unit of</p> <p>(1) Heat (2) Speed (3) Power (4) Weight</p> <p>किलोवाट किसकी इकाई है ?</p> <p>(1) ऊष्मा (2) गति (3) शक्ति (4) भार</p>
25.	<p>Red Blood cells are formed in</p> <p>(1) Liver (2) Kidneys (3) Gall-bladder (4) Bone-marrow</p> <p>लाल रक्त कोशिकायें निम्नलिखित में बनती हैं :</p> <p>(1) यकृत (2) गुर्दे (3) पित्त थैली (4) अस्थि मज्जा</p>
26.	<p>How heat of sun reaches to Earth ?</p> <p>(1) Conduction (2) Radiation (3) Convection (4) Evaporation</p> <p>सूर्य से ऊष्मा पृथ्वी पर कैसे पहुंचती है ?</p> <p>(1) संचरण (2) विकिरण (3) संवहन (4) वाष्पीकरण</p>

Question No.	Questions
27.	<p>Who was the saint of Bhakti Movement in Bengal ?</p> <p>(1) Kabir (2) Tulsidas (3) Surdas (4) Chaitanya</p> <p>बंगाल में भक्ति काल के संत कौन थे ?</p> <p>(1) कबीर (2) तुलसीदास (3) सूरदास (4) चैतन्य</p>
28.	<p>Which of the Sikh Gurus was killed by the orders of Aurangzeb ?</p> <p>(1) Guru Ram Das (2) Guru Gobind Singh (3) Guru Teg Bahadur (4) Guru Hargobind</p> <p>किन सिक्ख गुरु को औरंगजेब के हुक्म से मारा गया था ?</p> <p>(1) गुरु राम दास (2) गुरु गोबिन्द सिंह (3) गुरु तेग बहादुर (4) गुरु हरगोबिन्द</p>
29.	<p>Who colonized Goa first ?</p> <p>(1) Portuguese (2) French (3) Dutch (4) Italian</p> <p>गोवा पहले किके द्वारा अधीन किया गया ?</p> <p>(1) पुर्तगालियों (2) फ्रांसीसी (3) डच (4) इटली</p>
30.	<p>Who got 'Char Minar' built ?</p> <p>(1) Sahajan (2) Quli Qutub Shah (3) Jahangir (4) Sher Shah Suri</p> <p>चार मीनार किसने बनवाई थी ?</p> <p>(1) शाहजहाँ (2) कुली कुतुबशाह (3) जहाँगीर (4) शेरशाह सूरी</p>

Question No.	Questions
31.	<p>Three of the following four are alike in certain way and form a group. Which one does not belong to the group ?</p> <p>(1) Crowd (2) Flock (3) Swarm (4) Team</p> <p>निम्नलिखित चार में से तीन मिलते जुलते हैं और एक समूह बनाते हैं कौन सा एक समूह से सम्बन्ध नहीं रखता ?</p> <p>(1) भीड़ (2) झुण्ड (3) दल (4) टोली</p>
32.	<p>A number series is given with one term missing. Choose the correct alternative to fill the blank</p> <p>11, 13, 17, 19, 23, 25 (.....)</p> <p>(1) 25 (2) 27 (3) 29 (4) 31</p> <p>दी हुई एक संख्या श्रृंखला में एक कड़ी नहीं है। दिये हुए विकल्पों में से चुनकर कड़ी पूरी कीजिए।</p> <p>11, 13, 17, 19, 23, 25 (.....)</p> <p>(1) 25 (2) 27 (3) 29 (4) 31</p>
33.	<p>If ENTRY stands for 1, 2, 3, 4, 5 and STEADY stands for 931785. Then TENANT will stand for</p> <p>(1) 956169 (2) 196247 (3) 352123 (4) 312723</p> <p>अगर ENTRY बराबर है 1, 2, 3, 4, 5 और STEADY बराबर है 931785 तो TENANT किसके बराबर होगा ?</p> <p>(1) 956169 (2) 196247 (3) 352123 (4) 312723</p>

Question No.	Questions
34.	<p>If cloud is called black, black is called rain, rain is called green, green is called air, air is called blue and blue is called water. Where the birds will fly ?</p> <p>(1) Air (2) Blue (3) Black (4) Cloud</p> <p>अगर बादल को काला कहा जाये, काले को बरसात कहा जाये, बरसात को हरा कहा जाये, हरे को हवा कहा जाये, हवा को नीला कहा जाये, और नीले को पानी कहा जाये तो पक्षी कहां उड़ेंगे ?</p> <p>(1) हवा (2) नीला (3) काला (4) बादल</p>
35.	<p>A person showing a photograph of a boy tells his friend that he is son of my brother. How the boy in the photograph is related to this man ?</p> <p>(1) Nephew (2) Brother</p> <p>(3) Brother in law (4) Uncle</p> <p>एक लड़के का फोटोग्राफ दिखाते हुए एक आदमी अपने दोस्त से कहता है कि यह मेरे भाई का बेटा है। फोटोग्राफ में दिखाई देने वाला लड़का उस आदमी से कैसे सम्बन्धित है ?</p> <p>(1) भतीजा (2) भाई</p> <p>(3) साला (4) चाचा</p>
36.	<p>C is A's father's nephew. D is A's cousin but not brother of C. How D is related to C ?</p> <p>(1) Father (2) Sister</p> <p>(3) Mother (4) Aunt</p> <p>C, A के पिता का भतीजा है। D, A का चचेरा है लेकिन C का भाई नहीं है D और C कैसे सम्बन्धित हैं ?</p> <p>(1) पिता (2) बहन</p> <p>(3) माँ (4) चाची</p>

Question No.	Questions
37.	<p>Six persons A,B,C,D,E and E and F are standing in a circle. B is between F and C; A is between E and D ; A is to the left of D. Who is between A and F if C is on the right of B ?</p> <p>(1) B (2) C (3) D (4) E</p> <p>छः आदमी A,B,C,D,E और F एक गोल दायरे में खड़े हैं। B, F और C के बीच में है। A,E और D के बीच है। A,D के बाईं तरफ है। A और F के बीच कौन होगा जब C, B के दाईं तरफ है ?</p> <p>(1) B (2) C (3) D (4) E</p>
38.	<p>Ramesh ranks thirteenth in a class of thirty one. What is his rank from the last ?</p> <p>(1) 15th (2) 17th</p> <p>(3) 19th (4) 20th</p> <p>31 बच्चों की कक्षा में रमेश का स्थान 13 वाँ है। उसका पीछे से कौन सा स्थान होगा ?</p> <p>(1) 15वाँ (2) 17वाँ</p> <p>(3) 19वाँ (4) 20वाँ</p>
39.	<p>Choose the best alternative</p> <p>Danger always involves</p> <p>(1) Enemy (2) Fear</p> <p>(3) Attack (4) Help</p> <p>सबसे अच्छा विकल्प चुनिये</p> <p>खतरे में हमेशा होता है :</p> <p>(1) शत्रु (2) डर</p> <p>(3) आक्रमण (4) सहायता</p>
40.	<p>Which word will come first if organised in a dictionary ?</p> <p>(1) defer (2) delude</p> <p>(3) delinium (4) demean</p> <p>शब्दकोष में शब्द क्रम से लगाये जायें तो पहले कौन सा आयेगा ?</p> <p>(1) defer (2) delude</p> <p>(3) delinium (4) demean</p>

Question No.	Questions
41.	<p>How 4.5 can be expressed in terms of percentage ?</p> <p>(1) 450% (2) 45%</p> <p>(3) 4.5% (4) 0.45%</p> <p>4.5 को प्रतिशत में कैसे व्यक्त करेंगे ?</p> <p>(1) 450% (2) 45%</p> <p>(3) 4.5% (4) 0.45%</p>
42.	<p>The difference between a number and its three fifth is 50. What is the number ?</p> <p>(1) 100 (2) 125</p> <p>(3) 75 (4) 250</p> <p>एक संख्या और उसके पांच में से तीसरे हिस्से का अन्तर 50 है तो संख्या कितनी होगी ?</p> <p>(1) 100 (2) 125</p> <p>(3) 75 (4) 250</p>
43.	<p>What is the average of 76,65,82,67 and 85 ?</p> <p>(1) 69 (2) 72</p> <p>(3) 53 (4) 75</p> <p>उन संख्याओं का औसत क्या है ? 76, 65, 82, 67 और 85 ?</p> <p>(1) 69 (2) 72</p> <p>(3) 53 (4) 75</p>
44.	<p>How many pieces of 95cms length can be cut from 142.5 meters length ?</p> <p>(1) 140 (2) 150</p> <p>(3) 165 (4) 175</p> <p>142.5 मीटर लम्बाई में से 95 से.मी. के कितने टुकड़े काटे जा सकते हैं ?</p> <p>(1) 140 (2) 150</p> <p>(3) 165 (4) 175</p>

Question No.	Questions
45.	<p>How the fraction $102\frac{29}{100000}$ can be written in decimals.</p> <p>(1) 102.00029 (2) .01029 (3) .10229 (4) 10.200029</p> <p>इस भागखंड को दशमलव में कैसे लिख सकते हैं ? $102\frac{29}{100000}$</p> <p>(1) 102.00029 (2) .01029 (3) .10229 (4) 10.200029</p>
46.	<p>Which is the greatest number that exactly divides 105, 1001 and 2436</p> <p>(1) 3 (2) 7 (3) 9 (4) 11</p> <p>कौन-सी सबसे बड़ी संख्या है जो 105, 1001 और 2436 को पूरा भाग दे सकती है ?</p> <p>(1) 3 (2) 7 (3) 9 (4) 11</p>
47.	<p>What is the highest common factor (HCF) of 2923 and 3239 ?</p> <p>(1) 72 (2) 79 (3) 49 (4) 33</p> <p>2923 और 3239 का अधिकतम समापवर्तक (HCF) क्या है ?</p> <p>(1) 72 (2) 79 (3) 49 (4) 33</p>
48.	<p>What is the lowest common multiple (LCM) of 148 and 185 ?</p> <p>(1) 740 (2) 680 (3) 2590 (4) 3715</p> <p>148 और 185 का लघुतम सुलभ गुणनफल (LCM) क्या है ?</p> <p>(1) 740 (2) 680 (3) 2590 (4) 3715</p>

Question No.	Questions
49.	<p>What is the smallest number that must be added to 803642 to obtain an exact multiple of 11.</p> <p>(1) 3 (2) 7 (3) 9 (4) 1</p> <p>कौन सी छोटी से छोटी संख्या है जो 803642 में जोड़ने से 11 से पूरी तरह भाग हो सकती है ?</p> <p>(1) 3 (2) 7 (3) 9 (4) 1</p>
50.	<p>On dividing 4151 by a certain number, the quotient is 55 and remainder is 26. What is the divisor ?</p> <p>(1) 65 (2) 75</p> <p>(3) 80 (4) 25</p> <p>4151 को किसी संख्या से भाग देने पर भागफल 55 आता है और 26 शेष रह जाते हैं। वह भाग देने वाली संख्या क्या है ?</p> <p>(1) 65 (2) 75</p> <p>(3) 80 (4) 25</p>
51.	<p>On what date Swami Dayanand founded Arya Samaj at Bombay ?</p> <p>(1) 10 April, 1875 (2) 30 Oct, 1883</p> <p>(3) 10 April, 1838 (4) 05 Oct, 1875</p> <p>स्वामी दयानन्द ने आर्य समाज की स्थापना बम्बई में किस तिथि में की थी ?</p> <p>(1) 10 अप्रैल, 1875 (2) 30 अक्टूबर, 1883</p> <p>(3) 10 अप्रैल, 1838 (4) 05 अक्टूबर, 1875</p>
52.	<p>Mahatma Gandhi expressed that medium of education should be</p> <p>(1) Hindi (2) Mother Tongue</p> <p>(3) English (4) Gujarati</p> <p>महात्मा गांधी ने व्यक्त किया कि शिक्षा का माध्यम होना चाहिए</p> <p>(1) हिन्दी (2) मातृ भाषा</p> <p>(3) अंग्रेज़ी (4) गुजराती</p>

Question No.	Questions
53.	<p>Who expressed that a man without education is only a man in name ?</p> <p>(1) Mahatma Gandhi (2) Swami Dayanand (3) Rabindranath Tagore (4) Dr. Radha Krishnan</p> <p>ये विचार किसने व्यक्त किये - शिक्षा के बिना मनुष्य केवल नाम मात्र मनुष्य है ?</p> <p>(1) महात्मा गांधी (2) स्वामी दयानन्द (3) रवीन्द्र नाथ टैगोर (4) डॉ. राधाकृष्णन</p>
54.	<p>According to Mahatma Gandhi one important aim of education is :</p> <p>(1) Character building (2) Getting English education (3) Fulfilment of individual needs (4) Learning of mother tongue</p> <p>महात्मा गांधी के अनुसार शिक्षा का महत्वपूर्ण उद्देश्य है :</p> <p>(1) चरित्र निर्माण (2) अंग्रेजी शिक्षा प्राप्त करना (3) व्यक्तिगत ज़रूरतों की पूर्ति करना (4) मातृ भाषा सीखना</p>
55.	<p>Who expressed this opinion : "Brahmcharya, if observed, conduces to strength of body, mind and soul" ?</p> <p>(1) Mahatma Gandhi (2) Shri Aurobindo Gosh (3) Swami Dayanand (4) Vivekanand</p> <p>ये विचार किसने व्यक्त किये : " यदि ब्रह्मचर्य का अच्छी तरह पालन किया जाये तो इससे शरीर, मस्तिष्क तथा आत्मा का बल बढ़ता है" ?</p> <p>(1) महात्मा गांधी (2) श्री अरविन्द घोष (3) स्वामी दयानन्द (4) विवेकानन्द</p>

Question No.	Questions
56.	<p>'A student should earn while learning and learn while earning'— was the opinion of :</p> <p>(1) Swami Dayanand (2) Dr. Radha Krishnan (3) Mahatma Gandhi (4) Rabindranath Tagore</p> <p>'एक विद्यार्थी को सीखते हुये कमाना और कमाते हुए सीखना चाहिए' - यह विचार किसका था ?</p> <p>(1) स्वामी दयानन्द (2) डॉ. राधा कृष्णन (3) महात्मा गांधी (4) रवीन्द्रनाथ टैगोर</p>
57.	<p>In the opinion of Swami Dayanand education should be upto the age of following years.</p> <p>(1) 25 years (2) 35 years (3) 16 years (4) 18 years</p> <p>स्वामी दयानन्द के विचार में शिक्षा की आयु निम्नलिखित होनी चाहिए</p> <p>(1) 25 वर्ष (2) 35 वर्ष (3) 16 वर्ष (4) 18 वर्ष</p>
58.	<p>Who advocated separate schools for boys and girls ?</p> <p>(1) Dr. Zakir Hussian (2) Mahatma Gandhi (3) Aurobindo Gosh (4) Swami Dayanand</p> <p>किसने लड़के और लड़कियों के अलग स्कूलों के पक्ष में अपने विचार दिये ?</p> <p>(1) डा. ज़ाकिर हुसैन (2) महात्मा गांधी (3) अरबिन्दो घोष (4) स्वामी दयानन्द</p>
59.	<p>Who expressed this opinion "By education I mean an all round drawing out of the best in child and man, body, mind and spirit" ?</p> <p>(1) Jawahar Lal Nehru (2) Swami Dayanand (3) Swami Vivekanand (4) Mahatma Gandhi</p> <p>यह विचार किसने व्यक्त किया, " शिक्षा से मेरा तात्पर्य है बालक और मनुष्य के शरीर, मस्तिष्क और आत्मा में पाये जाने वाले सर्वोत्तम गुणों का चहुँमुखी विकास" ?</p> <p>(1) जवाहर लाल नेहरू (2) स्वामी दयानन्द (3) स्वामी विवेकानन्द (4) महात्मा गांधी</p>

Question No.	Questions
60.	<p>According to Mahatma Gandhi the curriculum for boys and girls should be same up to :</p> <p>(1) Fifth class (2) Tenth class</p> <p>(3) Pre-School stage (4) At all stages</p> <p>महात्मा गांधी के अनुसार लड़के और लड़कियों का पाठ्यक्रम निम्न अवस्था तक एक जैसा होना चाहिए :</p> <p>(1) पांचवी कक्षा (2) दसवीं कक्षा</p> <p>(3) विद्यालय पूर्व शिक्षा (4) सभी स्तरों पर</p>
61.	<p>How many numbers between 11 and 80 are divisible by 7 ?</p> <p>(1) 10 (2) 11</p> <p>(3) 9 (4) 7</p> <p>कितनी संख्याएं 11 और 80 के बीच 7 से विभाजित हो सकती हैं ?</p> <p>(1) 10 (2) 11</p> <p>(3) 9 (4) 7</p>
62.	<p>When a number is divided by 13 the remainder is 11. What is the number?</p> <p>(1) 154 (2) 142</p> <p>(3) 270 (4) 399</p> <p>जब किसी संख्या को 13 से विभाजित किया जाता है तो 11 शेष रहता है। वह संख्या कौन-सी है ?</p> <p>(1) 154 (2) 142</p> <p>(3) 270 (4) 399</p>

Question No.	Questions
63.	<p>Four electronic devices 'beeps' after an interval of 30, 60, 90 and 105 minutes, respectively. These beeped together at 12.00 Noon. When will these 'beep' again together ?</p> <p>(1) 9 A.M (2) 3 A.M. (3) 12 midnight (4) 9 P.M.</p> <p>चार इलेक्ट्रॉनिक यंत्र अलग अलग से 30, 60, 90 और 105 मिनट के अंतराल पर 'बीप' करते हैं। अगर वे 12.00 दोपहर एक साथ 'बीप' किये तो अगली बार इकट्ठे कब बीप करेंगे ?</p> <p>(1) सुबह 9 बजे (2) सुबह 3 बजे (3) रात 12 बजे (4) शाम 9 बजे</p>
64.	<p>Which of the fractions is less than $\frac{5}{6}$ and greater than $\frac{3}{4}$?</p> <p>(1) $\frac{1}{3}$ (2) $\frac{2}{3}$ (3) $\frac{4}{5}$ (4) $\frac{9}{10}$</p> <p>निम्नलिखित में से कौन-सा भागखंड $\frac{5}{6}$ से कम और $\frac{3}{4}$ से अधिक है ?</p> <p>(1) $\frac{1}{3}$ (2) $\frac{2}{3}$ (3) $\frac{4}{5}$ (4) $\frac{9}{10}$</p>



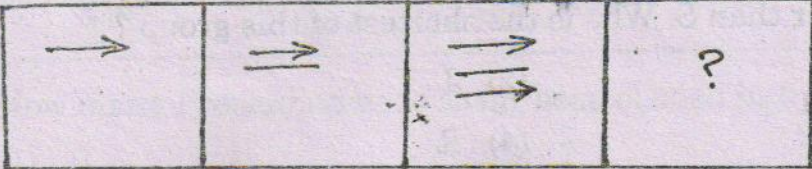




Question No.	Questions
65.	<p>If one third of a tank holds 80 litres of water then what quantity of water that half of the tank will hold ?</p> <p>(1) 120 litres (2) 100 litres (3) 240 litres (4) 60 litres</p> <p>अगर एक जलाशय के एक तिहाई भाग में 80 लीटर पानी आता है तो उसके आधे भाग में कितना पानी आयेगा ?</p> <p>(1) 120 लीटर (2) 100 लीटर (3) 240 लीटर (4) 60 लीटर</p>
66.	<p>Three numbers are in the ratio of 4 : 5 : 6 and their average is 25. What is the largest number of these three ?</p> <p>(1) 30 (2) 45 (3) 25 (4) 20</p> <p>तीन संख्याएं 4 : 5 : 6 के अनुपात में हैं और उनका औसत 2.5 है। इन तीनों में से सबसे बड़ी संख्या कौन-सी है ?</p> <p>(1) 30 (2) 45 (3) 25 (4) 20</p>
67.	<p>The total of A and B is 12 more than the total of B + C. How much C is less than A ?</p> <p>(1) 12 (2) 14 (3) 15 (4) 24</p> <p>क और ख का योग ख और ग के योग से 12 अधिक है। ग, क से कितना कम है ?</p> <p>(1) 12 (2) 14 (3) 15 (4) 24</p>

Question No.	Questions
68.	<p>In a group of dogs and men the number of legs are 24 more than twice the number of heads, then what is the number of dogs in the group ?</p> <p>(1) 12 (2) 24 (3) 48 (4) 8</p> <p>कुत्तों और मनुष्यों के समूह में टांगों की संख्या सिरों की संख्या के दो गुने से 24 अधिक है तो कुत्तों की संख्या कितनी होगी ?</p> <p>(1) 12 (2) 24 (3) 48 (4) 8</p>
69.	<p>The average of five numbers is 27. If one number is excluded then the average becomes 25. What is the number excluded ?</p> <p>(1) 25 (2) 27 (3) 35 (4) 30</p> <p>पांच संख्याओं का औसत 27 है। अगर उनसे एक संख्या निकाल दी जाये तो औसत 25 रह जाता है। निकाली गई संख्या कौन-सी है ?</p> <p>(1) 25 (2) 27 (3) 35 (4) 30</p>
70.	<p>If average temperature from Monday to Wednesday is 37°C and the average temperature of Monday and Wednesday is 34°C. Then what is the temperature of Tuesday ?</p> <p>(1) 43°C (2) 41°C (3) 35°C (4) 34°C</p> <p>अगर सोमवार से बुधवार तक का औसत तापमान 37° से. है और सोमवार और बुधवार का औसत तापमान 34° से. है तो मंगलवार का तापमान क्या होगा ?</p> <p>(1) 43° से. (2) 41° से. (3) 35° से. (4) 34° से.</p>

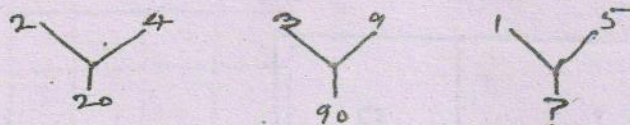
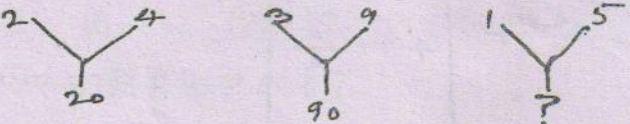
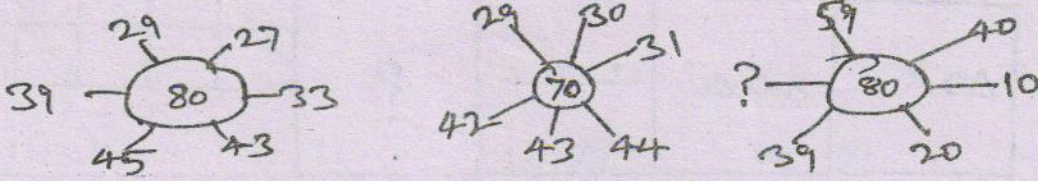
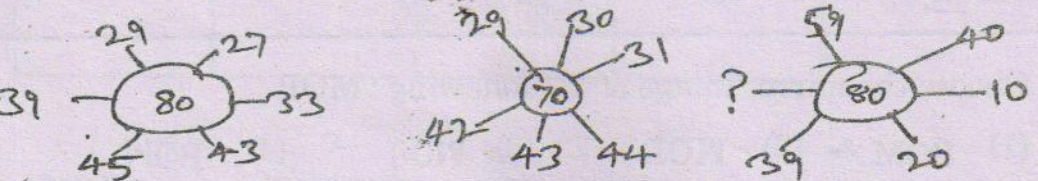
Question No.	Questions
71.	<p>Who founded Agra City ?</p> <p>(1) Rana Sanga (2) Sikandar Lodhi (3) Jahangir (4) Sahajan</p> <p>आगरा शहर की स्थापना किसने की ?</p> <p>(1) राणा सांगा (2) सिकन्दर लोधी (3) जहाँगीर (4) शाहजान</p>
72.	<p>Who was the last Governor General of India ?</p> <p>(1) Lord Dalhousie (2) Lord Mountbatton (3) Rajagopalachari (4) Acharya Kriplani</p> <p>भारत के अन्तिम गवर्नर जनरल कौन थे ?</p> <p>(1) लॉर्ड डलहौजी (2) लॉर्ड माउण्टबेटन (3) राजगोपालाचारी (4) आचार्य कृपलानी</p>
73.	<p>Who raised 'Inquilab Zindabad first ?</p> <p>(1) Lokmanya Tilak (2) Veer Savarkar (3) Udham Singh (4) Bhagat Singh</p> <p>'इंकलाब जिन्दाबाद' नारा पहले किसने लगाया ?</p> <p>(1) लोकमान्य तिलक (2) वीर सावरकर (3) उधम सिंह (4) भगत सिंह</p>
74.	<p>Where from Mahatma Gandhi started 'Civil Disobidience Movement' ?</p> <p>(1) Sabarmati (2) Wardha (3) Sevagram (4) Porbandar</p> <p>महात्मा गांधी ने असहयोग आन्दोलन कहां से शुरू किया ?</p> <p>(1) साबरमती (2) वारधा (3) सेवाग्राम (4) पोरबन्दर</p>

Question No.	Questions
75.	<p>Who is known as the Father of Indian Constitution ?</p> <p>(1) Dr. B.R. Ambedkar (2) Mahatma Gandhi</p> <p>(3) Jawahar Lal Nehru (4) Dr. Rajendra Prasad</p> <p>भारतीय संविधान का जनक कौन जाना जाता है ?</p> <p>(1) डा. बी.आर. अम्बेडकर (2) महात्मा गांधी</p> <p>(3) जवाहर लाल नेहरू (4) डा. राजेन्द्र प्रसाद</p>
76.	<p>President's Rule can be imposed on a state for a period of :</p> <p>(1) 3 months (2) 6 months</p> <p>(3) 9 months (4) 12 months</p> <p>राष्ट्रपति शासन किसी राज्य पर निम्न अवधि तक लगाया जा सकता है ?</p> <p>(1) 3 महीने (2) 6 महीने</p> <p>(3) 9 महीने (4) 12 महीने</p>
77.	<p>Which of the following is on 'Concurrent List' ?</p> <p>(1) Finance (2) Education</p> <p>(3) Petroleum (4) Coal</p> <p>निम्नलिखित में से कौन सा समवर्ती सूची में है ?</p> <p>(1) वित्त (2) शिक्षा</p> <p>(3) पेट्रोलियम (4) कोयला</p>
78.	<p>How many Presidents have so far been elected in India ?</p> <p>(1) 9 (2) 7</p> <p>(3) 13 (4) 11</p> <p>अभी तक भारत में कितने राष्ट्रपति चुने गये हैं ?</p> <p>(1) 9 (2) 7</p> <p>(3) 13 (4) 11</p>

Question No.	Questions
79.	<p>How many miles India's 'Economic Zone' extends to its coast ?</p> <p>(1) 100 (2) 150 (3) 200 (4) 250</p> <p>भारतीय तट से कितने मील दूरी तक आर्थिक जोन माना जाता है ?</p> <p>(1) 100 (2) 150 (3) 200 (4) 250</p>
80.	<p>Which is the largest Public Sector Bank in India ?</p> <p>(1) Central Bank (2) Dena Bank (3) State Bank of India (4) Punjab National Bank</p> <p>भारत में सबसे बड़ा सार्वजनिक क्षेत्र का बैंक कौन सा है ?</p> <p>(1) सेन्ट्रल बैंक (2) देना बैंक (3) भारतीय स्टेट बैंक (4) पंजाब नैशनल बैंक</p>
81.	<p>V is taller than R but shorter than A. J is taller than A. S is taller than V. R is shorter than S. Who is the shortest of this group ?</p> <p>(1) S (2) J (3) A (4) R</p> <p>V, R से लम्बा है लेकिन A से छोटा है। J, A से लम्बा है। S, V से लम्बा है। R, S से छोटा है। इस समूह में सबसे छोटा कौन है ?</p> <p>(1) S (2) J (3) A (4) R</p>

Question No.	Questions
82.	<p>How many squares are there in the following figure ?</p>  <p>(1) 16 (2) 17 (3) 28 (4) 30</p> <p>निम्न आकृति में कितने वर्ग हैं ?</p>  <p>(1) 16 (2) 17 (3) 28 (4) 30</p>
83.	<p>Which will be the next ?</p> <p>अगला क्या होगा ?</p>  <p>1. </p> <p>2. </p> <p>3. </p> <p>4. </p>

Question No.	Questions																								
84.	<p>Choose the alternative</p> <table border="1" data-bbox="253 479 971 667"> <tr> <td>$\Delta \circ X$</td> <td>$X \circ \Delta$</td> <td>$\div - +$</td> <td>?</td> </tr> </table> <table border="1" data-bbox="245 719 976 943"> <tr> <td>$\frac{\circ}{-}$ +</td> <td>$\frac{\circ}{-}$ -</td> <td>$- \frac{\circ}{+}$ +</td> <td>$+ - \frac{\circ}{+}$</td> </tr> <tr> <td>1</td> <td>2</td> <td>3</td> <td>4</td> </tr> </table> <p>विकल्प चुनिये।</p> <table border="1" data-bbox="245 1070 964 1258"> <tr> <td>$\Delta \circ X$</td> <td>$X \circ \Delta$</td> <td>$\div - +$</td> <td>?</td> </tr> </table> <table border="1" data-bbox="237 1317 967 1541"> <tr> <td>$\frac{\circ}{-}$ +</td> <td>$\frac{\circ}{-}$ -</td> <td>$- \frac{\circ}{+}$ +</td> <td>$+ - \frac{\circ}{+}$</td> </tr> <tr> <td>1</td> <td>2</td> <td>3</td> <td>4</td> </tr> </table>	$\Delta \circ X$	$X \circ \Delta$	$\div - +$?	$\frac{\circ}{-}$ +	$\frac{\circ}{-}$ -	$- \frac{\circ}{+}$ +	$+ - \frac{\circ}{+}$	1	2	3	4	$\Delta \circ X$	$X \circ \Delta$	$\div - +$?	$\frac{\circ}{-}$ +	$\frac{\circ}{-}$ -	$- \frac{\circ}{+}$ +	$+ - \frac{\circ}{+}$	1	2	3	4
$\Delta \circ X$	$X \circ \Delta$	$\div - +$?																						
$\frac{\circ}{-}$ +	$\frac{\circ}{-}$ -	$- \frac{\circ}{+}$ +	$+ - \frac{\circ}{+}$																						
1	2	3	4																						
$\Delta \circ X$	$X \circ \Delta$	$\div - +$?																						
$\frac{\circ}{-}$ +	$\frac{\circ}{-}$ -	$- \frac{\circ}{+}$ +	$+ - \frac{\circ}{+}$																						
1	2	3	4																						
85.	<p>Choose the mirror image of the following : MOB</p> <p>(1) BOM (2) WOB (3) BOM (4) BOW</p> <p>निम्न का दर्पण प्रतिबिम्ब चुनिये : MOB</p> <p>(1) BOM (2) BOM (3) BOM (4) BOW</p>																								

Question No.	Questions
86.	<p>Which number will be placed at the sign of interrogation ?</p>  <p>(1) 20 (2) 27 (3) 26 (4) 75</p> <p>प्रश्न चिह्न वाले स्थान पर कौन सी संख्या आयेगी ?</p>  <p>(1) 20 (2) 27 (3) 26 (4) 75</p>
87.	<p>Which number can be placed at the sign of interrogation ?</p>  <p>(1) 60 (2) 69 (3) 49 (4) 50</p> <p>प्रश्न चिह्न के स्थान पर क्या संख्या रखी जा सकती है ?</p>  <p>(1) 60 (2) 69 (3) 49 (4) 50</p>

Question No.	Questions
88.	<p>What will be mirror image of MOUTH ?</p> <p>(1) MOUTH (2) WOULH (3) MO∩TH (4) WO∩LH</p> <p>MOUTH का दर्पण प्रतिबिम्ब क्या होगा ?</p> <p>(1) MOUTH (2) WOULH (3) MO∩TH (4) WO∩LH</p>
89.	<p>Yes is related to no in the same way Alive is related to</p> <p>(1) Funeral (2) Dead (3) Live (4) Birth</p> <p>जैसे हाँ नहीं से सम्बन्धित है उसी प्रकार जीवित किससे सम्बन्धित है ?</p> <p>(1) अन्तेष्टी (2) मृत (3) जिन्दा (4) जन्म</p>
90.	<p>Which of the following sentence is a fact ?</p> <p>1 Fox is a cunning animal. 2 There are seven days in a week. 3 There are seven stages of human life. 4 A thing of beauty is a joy for ever.</p> <p>(1) 4 (2) 3 (3) 1 (4) 2</p> <p>निम्नलिखित में से कौन सा व्याक्य तथ्य है ?</p> <p>1 लोमड़ी चालाक पशु है। 2 एक सप्ताह में सात दिन होते हैं। 3 मनुष्य के जीवन में सात अवस्थायें होती हैं। 4 एक सुन्दर वस्तु हमेशा खुशी प्रदान करती है।</p> <p>(1) 4 (2) 3 (3) 1 (4) 2</p>

Question No.	Questions
91.	<p>Find the similar relationship in the pairs</p> <p>Herbivore : Carnivore</p> <p>(1) Animal : Plant (2) Leaves : Flesh</p> <p>(3) Pigeon : Crow (4) Lion : Elephant</p> <p>मिलते जुलते सम्बन्ध वाला जोड़ा चुनिए</p> <p>शाकाहारी : मांसाहारी</p> <p>(1) जानवर : आदमी (2) पत्तियाँ : मांस</p> <p>(3) कबूतर : कौआ (4) शेर : हाथी</p>
92.	<p>As pearl is related to oyster then brain is related to :</p> <p>(1) Thinking (2) Cranium</p> <p>(3) Soul (4) Intelligence</p> <p>जिस प्रकार से मोती सीप से सम्बन्धित है उसी प्रकार मस्तिष्क का सम्बन्ध है :</p> <p>(1) सोचने से (2) खोपड़ी से</p> <p>(3) आत्मा से (4) बुद्धि से</p>
93.	<p>Select the word related to the given group</p> <p>Iron, Zinc, Copper</p> <p>(1) Sulphur (2) Iodine</p> <p>(3) Aluminium (4) Chlorine</p> <p>दिये गये समूह से सम्बन्धित शब्द बतायें।</p> <p>लोहा, जिंक, तांबा</p> <p>(1) गंधक (2) आयोडीन</p> <p>(3) एलुमिनियम (4) क्लोरीन</p>

Question No.	Questions
94.	<p>Choose the word which is not like the other words in the group</p> <p>(1) Jaipur (2) Bhopal (3) Shimla (4) Mysore</p> <p>वह शब्द छाँटिए जो दूसरे दिये गये शब्दों के समूह से अलग है।</p> <p>(1) जयपुर (2) भोपाल (3) शिमला (4) मैसूर</p>
95.	<p>In the given four words, three are related in one way or the other. The fourth word is different. Find the different word.</p> <p>(1) Cow (2) Goat (3) Buffalo (4) Lion</p> <p>दिये गये चार शब्दों में से तीन मिलते जुलते हैं। चौथा शब्द भिन्न है। भिन्न शब्द ढूँढिए।</p> <p>(1) गाय (2) बकरी (3) बैस (4) शेर</p>
96.	<p>Given are names of some instruments three are similar. Find the fourth one different.</p> <p>(1) Thermometer (2) Meter (3) Heater (4) Litre</p> <p>दिये गये यंत्रों में से तीन मिलते जुलते हैं। जो चौथा अलग है उसे बताए।</p> <p>(1) थर्मामीटर (2) मीटर (3) हीटर (4) लीटर</p>
97.	<p>Choose the dissimilar pair</p> <p>(1) Lion : Roar (2) Birds : Chirp (3) Bees : Hum (4) Frog : Jump</p> <p>भिन्न शब्दों वाले जोड़े को छाँटिये</p> <p>(1) शेर : दहाड़ना (2) पक्षी : चहचहाना (3) मक्खियाँ : भिनभिनाना (4) मेंढक : कूदना</p>

Question No.	Questions
98.	<p>Choose the pair where words are differently related</p> <p>(1) Saw : Wood (2) Pen : Paper (3) Chalk : Chalkboard (4) Water : Drink</p> <p>वह जोड़ा चुनिये जिसमें शब्द भिन्न प्रकार से सम्बन्धित है।</p> <p>(1) आरी : लकड़ी (2) कलम : कागज़ (3) चॉक : चॉकबोर्ड (4) पानी : पीना</p>
99.	<p>Choose the group of letters which is different from others</p> <p>(1) JLNP (2) SUWY (3) RTVX (4) BDFG</p> <p>अक्षरों का समूह जो दूसरे से अलग है को चुनिये</p> <p>(1) JLNP (2) SUWY (3) RTVX (4) BDFG</p>
100.	<p>Three of the following have a relationship and form a group. Which of these does not belong to the group ?</p> <p>(1) Floor (2) Guest Room (3) Kitchen (4) Bathroom</p> <p>नीचे दिये गये तीन शब्द सम्बन्धित हैं और एक समूह बनाते हैं कौन सा शब्द समूह से सम्बन्ध नहीं रखता है</p> <p>(1) फर्श (2) मेहमान कक्ष (3) रसोई (4) स्नान कक्ष</p>